




UNSERE HEIMISCHEN FISCHE

Aquarienhaus



1) Ordne die 5 Fischarten **nach der Größe**:

(Achte dabei auf die Fische in den Becken, nicht auf die Angaben der Schilder! Der größte Fisch erhält die Nummer 1)

Fischname	Nummer
<i>Adriatischer Stör</i>
<i>Strömer</i>
<i>Süßwasserschleimfisch</i>
<i>Zander</i>
<i>Seelaube</i>

2) **Schneider, Gründling, Hasel, Strömer, Schmerle**:

Welche sind

a) **Bodenfische?**

b) **Freiwasserfische?**

.....
.....
.....
.....

.....
.....
.....
.....

c) Welche haben **Barteln**?


.....

3) Welche von diesen Fischen sind **Schwarmfische**?

ja

nein

Kaulbarsch
Strömer
Gründling
Schneider
Bachforelle



4) Zu welchen dieser Fische gehören diese Rückenflossen?

Äsche, Karpfen, Karausche, Nase, Hecht



.....



.....

5) Ordne die Beispiele zu:

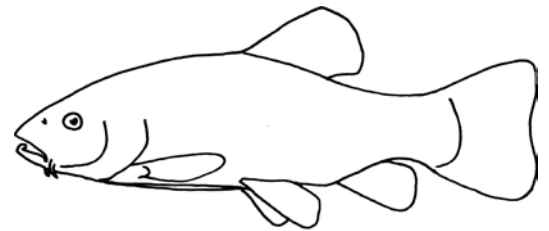
Aitel, Schleie, Karausche, Bachforelle, Wels

a) Fische mit deutlichen Schuppen

.....

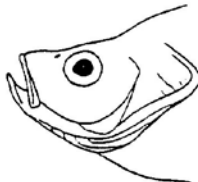
b) Fische mit sehr kleinen Schuppen

.....



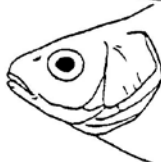
6) Bei welchen dieser Fische (**Gründling, Strömer, Alborella und Wels**) ist das Maul

a) oberständig




.....

b) mittelständig



.....

c) unterständig



.....