




# UNSERE HEIMISCHEN FISCH



1) Ordne die 5 Fischarten nach der Größe:

(Achte dabei auf die Fische in den Becken, nicht auf die Angaben der Schilder!  
Der größte Fisch erhält die Nummer 1)

Fischname	Nummer
Wels	.....
Strömer	.....
Süßwasserschleimfisch	.....
Zander	.....
Seelaube	.....

2) *Schneider, Gründling, Hasel, Strömer, Aitel, Balkanbarbe:*

Welche sind

a) Bodenfische?

) Freiwasserfische?

.....  
.....  
.....  
.....

.....  
.....  
.....  
.....

c) Welche haben **Barteln**?


.....

3) Welche von diesen Fischen sind **Schwarmfische**?

ja

nein

- Kaulbarsch
- Strömer
- Gründling
- Schneider
- Bachforelle



4) Zu welchen dieser Fische gehören diese Rückenflossen?

*Äsche, Karpfen, Karausche, Nase, Hecht*



.....



.....

5) Ordne die Beispiele zu:

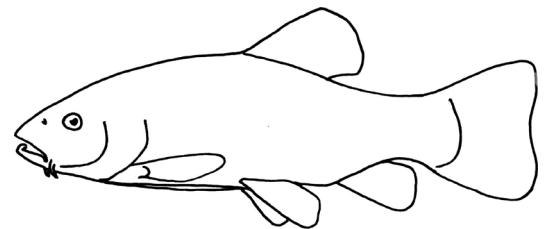
*Aitel, Schleie, Karausche, Bachforelle, Wels, Pigo*

a) Fische mit deutlichen Schuppen

.....

b) Fische mit sehr kleinen Schuppen

.....

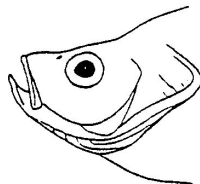


6) Bei welchen dieser Fische

*Gründling, Strömer, Alborella, Streber, Zander und Wels*


ist das Maul

a) oberständig




.....

b) mittelständig



.....

c) unterständig



.....